

第一關 乘法大攻略：請完成表格內的空格並回答表格下方的問題


		乘 數										
		0	1	2	3	4	5	6	7	8	9	10
被	1	1	2	3	4	5	6	7	8			
	2	2	4	6		10	12		16		20	
	3	3		9		15		21		27	30	
	4	4	8		16			28			40	
	5	5				25		35		45		
乘	6	6	12			30	36					
	7			21			42	49				
	8		16				48		64		80	
	9			27		45					90	
	10	10										100

你知道有那些算式是 () × () = 24 嗎？寫出愈多愈好！

第二關 看圖玩數學：請依圖案的提示回答喔！

1. 容量比一比，把正確的答案圈起來。

皮皮買了兩罐相同的水果汁，把兩罐果汁倒進不同大小的杯子裡，哪一個杯子裡裝的水果汁比較多？




2.

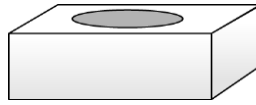
<p>1 條緞帶</p>	<p>(1) 小芸用掉 () 條緞帶。</p> <p>(2) 小如用掉 () 條緞帶。</p> <p>(3) 小芸和小如，誰用掉較長的緞帶比較長？圈圈看</p> <p>(小芸 , 小如)</p>
<p>小芸用掉</p>	
<p>小如用掉</p>	

3. 同同有一些硬紙板，他想要做 1 個正方體骰子和 1 個長方體面紙盒，他把剪好紙板的紙板分成兩堆。

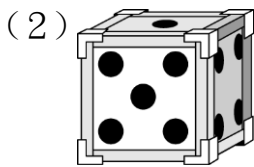
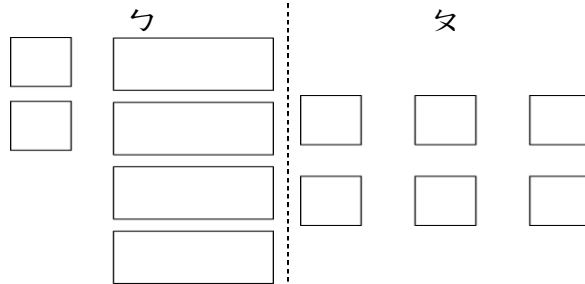
正方體骰子



長方體面紙盒



- (1) 看下圖，做骰子需要 () 堆，做面紙盒需要 () 堆。
。(填入 ㄅ 或 ㄆ)



做骰子時，同同先在每一個面依序塗上第一個黑點、二個黑點、三個黑點……，最多是塗 () 個黑點；組裝好後又在每一條邊各貼一條彩色膠帶，總共需要 () 條膠帶；他還想在每一個頂點裝一個護套保護，共需要 () 個護套。

第三關 數學計算我最行：寫出算式做做看

1. 先算什麼？再算什麼？做做看。

小安有 25 張兌換券，阿丫同有 39 張兌換券，兩個人的點數還不夠幾張？

2. 一個禮盒裝有 10 塊鳳梨酥、5 塊芋頭酥和 12 包茶包，媽媽買了 3 個禮盒，請用乘法算式算算看。

(1) 3 個禮盒中，鳳梨酥共有多少塊？

(2) 3 個禮盒中，茶包共有多少包？

(3) 3 個禮盒中，鳳梨酥和芋頭酥共有多少塊？