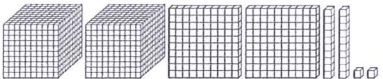
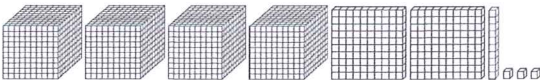



1. 數一數，積木表示哪一個數？填看。

(1)  _____

(2)  _____

(3)  _____

2. 填一填並圈圈看。

(1) 5000 和 172 合起來是 _____，讀作 _____
(五×千 一 百 七 十 二，五×千 一 七 二)。

(2) 3000 和 59 合起來是 _____，讀作 _____
(三×千 五×百 九 十，三×千 零 五×十 九)。

3. 讀一讀，寫一寫。

(1) 「八千六百一十四」記作 _____。

(2) 「四千零八十」記作 _____。

(3) 「六千零二」記作 _____。

4. 按照數的順序填填看。

(1) 3000 — 4000 — — 6000 — — — 9000

(2) 5600 — 5700 — 5800 — — — 6100 —

(3) 7430 — 7420 — 7410 — — — 7380 — 7370

5. 填填看，並記在位值表上。

(1) 7151 是 _____ 個千、_____ 個百、_____ 個十和 _____ 個一。合起來的。

千位	百位	十位	個位

(2) 8502 是 _____ 個千、_____ 個百、_____ 個十和 _____ 個一。合起來的。

千位	百位	十位	個位

(3) 4740 是 _____ 個千、_____ 個百、_____ 個十和 _____ 個一。合起來的。

千位	百位	十位	個位

6. 從 3251 開始，往右每次增加 100，往左每次減少 100，填入正確的數。



7. 將「4538」填入位值表中，並回答問題。

千位	百位	十位	個位

(1) 比「4538」少 10 是 _____。

(2) 比「4538」少 100 是 _____。

(3) 比「4538」少 1000 是 _____。