









1. 數一數，有幾元？

(1)  _____ 元

(2)  _____ 元

2. 填填看。

- (1) 50 張  可以換成 _____ 張 。
- (2) 3 張  可以換成 _____ 張 。
- (3) 10 張  可以換成 _____ 張 。
- (4) 9 張  可以換成 _____ 張 。

3. 圈出正確的金額。

(1) 3000 元



(2) 1137 元



1. 圈出比較大的數。

- (1) (897 , 1897) (2) (3001 , 2998)
 (3) (2852 , 5822) (4) (6689 , 6389)
 (5) (5187 , 5178) (6) (7264 , 6274)

2. 在 \square 中填入 $<$ 或 $>$ 。

- (1) 4553 \square 3554 (2) 3999 \square 2000
 (3) 7784 \square 八千八百七十四
 (4) 5045 \square 4505 (5) 4911 \square 5922
 (6) 七千二百六十四 \square 6274

3. 按照數的大小排排看。

- (1) 4906, 4806, 5006 (2) 6618, 7618, 5618
 _____ $<$ _____ $<$ _____ _____ $>$ _____ $>$ _____
 (3) 5410, 5390, 5430 (4) 5682, 8265, 2856
 _____ $>$ _____ $>$ _____ _____ $<$ _____ $<$ _____

4. 用 1、5、0、9 四張數字卡，排出四位數，數字不能重複。

- (1) 排出一個比 1550 小的數。

- (2) 排出一個比 5000 大且比 5100 小的數。
