







桃園市同安國小 109 學年度第二學期 一年級數學科翰林版第六至七單元 期末練習試卷

一年( )班( )號 姓名( )

一、選出最正確的答案。(選擇題)

：每題 2 分，共 20 分

- ( ) 1 個  是幾元？  
 ① 5 元 ② 10 元 ③ 1 元。
- ( ) 我想買一包 85 元的彈力球，我有  ，他最少還要補多少個  才夠？  
 ① 1 個 ② 2 個 ③ 3 個。
- ( ) 小紅付了   買一個樂高積木，小紅付了多多少元？  
 ① 15 元 ② 50 元 ③ 55 元。
- ( ) 這是幾月的月曆？  
 民國 110 年 2 月 2021

日	一	二	三	四	五	六
	1	2	3	4	5	6
7	8	9	10	11	12	13
14	15	16	17	18	19	20
21	22	23	24	25	26	27
28						

① 1 月 ② 2 月 ③ 3 月。

- ( ) 今天 是 11 月 7 日 星期 日，明天 是 11 月 8 日 星期 幾？

民國 110 年 11 月 2021



日	一	二	三	四	五	六
	1	2	3	4	5	6
7	8	9	10	11	12	13
14	15	16	17	18	19	20
21	22	23	24	25	26	27
28	29	30				

① 星期 五 ② 星期 日 ③ 星期 一。

- ( ) 今天 是 4 月 23 日，是 星期 幾？



① 星期 三 ② 星期 四 ③ 星期 五。

- ( ) 1 個  可以換 幾 個 ？

① 20 個 ② 30 個 ③ 10 個。

- ( ) 1 張  可以換 5 個  和 幾 個 ？

① 5 個 ② 1 個 ③ 2 個。


- ( ) 7 月 7 日 是 7 月 的 第 幾 個 星期 三？

民國 110 年 7 月 2021

日	一	二	三	四	五	六
				1	2	3
4	5	6	7	8	9	10
11	12	13	14	15	16	17
18	19	20	21	22	23	24
25	26	27	28	29	30	31




① 第 一 個 ② 第 二 個 ③ 第 三 個。

- ( ) 今天 是 6 月 3 日，是 星期 幾？








① 星期 三 ② 星期 四 ③ 星期 六。


二、填填看看：每格 2 分，共 40 分



- 一瓶牛奶 59 元，媽媽拿出  ，還要再補 ( ) 個 。


2. 1張  可以換  和 ( ) 個 。




3. 1個  是 ( ) 元，可以換 ( ) 個 ；也可以換 ( ) 個 。





4. 1張  可以換 ( ) 個 。

5. 1個  可以換 ( ) 個 。

6. 一件玩具 100元，全部用  付，要付 ( ) 個 。

如果已付 8 個 ，要再補 ( ) 個 。

7. 1張  可以換 ( ) 個 。也可以換 ( ) 個 。

8. 數數看，有多少元？  
  
  
  
 有 ( ) 個， 有 ( ) 個， 有 ( ) 個，共有 ( ) 元。

9. 數數看，有多少元？  
  
  
  
 有 ( ) 個， 有 ( ) 個， 有 ( ) 個， 有 ( ) 個，共有 ( ) 元。

三、看圖填填看：每格 2 分，共 40 分

1.



這是今天的日子，今天是 ( ) 月 ( ) 日 星期 ( )。

2.

民國 110 年 6 月 2021

日	一	二	三	四	五	六
		1	2	3	4	5
6	7	8	9	10	11	12
13	14 端午節	15	16	17	18	19
20	21	22	23	24	25	26
27	28	29	30			

- (1) 這是 ( ) 月的月曆。
- (2) 這個月的第一天是 ( ) 月 ( ) 日 星期 ( )。
- (3) 這個月的最後一天是 ( ) 月 ( ) 日 星期 ( )。
- (4) 端午節是 ( ) 月 ( ) 日 星期 ( )。
- (5) 端午節的前一天是 ( ) 月 ( ) 日 星期 ( )。
- (6) 這個月共有 ( ) 個星期日，( ) 個星期六。
- (7) 小明的生日是 6 月 18 日，請在月曆上把那天的日期圈起來。
- (8) 從月曆上可以看出來這個月共有 ( ) 天。