

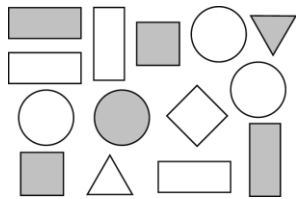
一、選出正確的答案。(選擇題)

每題 2 分

- ( )  $36+8=\square$ ， $\square$  的答案應填入 ① 34 ② 44 ③ 48。
- ( ) 33 張貼紙，送給好朋友 9 張後，還剩下 ① 24 張 ② 26 張 ③ 28 張。
- ( ) 票選班長，得票數最多的人就是班長，投票結果如下，誰當選了班長？

小明	正正
小天	正下
小玉	正正

- ① 小明 ② 小天 ③ 小玉。
- ( ) 文具箱裡有 17 張色紙，又放入 20 張，現在共有幾張色紙？ ① 17 張 ② 37 張 ③ 41 張。
- ( ) 灰色的圖形有幾個？



- ① 6 個 ② 7 個 ③ 8 個。
- ( ) 哪一個算式的答案最大？ ①  $66-16$  ②  $76-16$  ③  $86-16$ 。
- ( ) 早餐店有 84 瓶巧克力牛奶和 33 瓶豆漿，巧克力牛奶比豆漿多幾瓶？ ① 51 瓶 ② 53 瓶 ③ 61 瓶。
- ( ) 哥哥有 55 元，弟弟有 35 元，哥哥比弟弟多 ① 20 元 ② 32 元 ③ 55 元。

- ( ) 大駿有 88 元，買了一杯 58 元的果汁，還有多少元？ ① 40 元 ② 38 元 ③ 30 元。
- ( ) 一盒花生糖 34 元，買 2 盒花生糖，共要付多少元？ ① 34 元 ② 64 元 ③ 68 元。

二、填填看看：每格 2 分

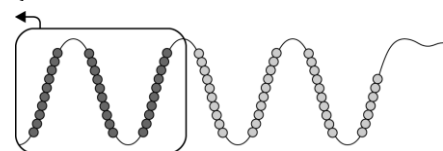
- 根據幼兒園三個班的人數回答問題。
  - 企鵝班女生有 18 個人，男生有 8 個人，女生比男生多 ( ) 個人。
  - 大象班男生有 19 個人，女生有 11 個人，男生比女生多 ( ) 個人。
  - 海豚班男生有 8 個人，女生有 11 個人，海豚班共有 ( ) 個學生。
- 一杯奶茶 45 元，爸爸買兩杯，共要付 ( ) 元。
- 爸爸給哥哥和弟弟每人各 50 元，弟弟買了一瓶 20 元的可樂，剩下 ( ) 元；哥哥買了一個 30 元的飯糰，剩下 ( ) 元。

4. 剩下幾個狗骨頭？




$52-12=( )$

5. 剩下幾顆？



$67-30=( )$

6. 算算看。



98-6= ( )

7. 這是 6 月的月曆，請劃記並算

出各有幾天：

民國 110 年 6 月 2021

日	一	二	三	四	五	六
		1	2	3	4	5
6	7	8	9	10	11	12
13	14 端午節	15	16	17	18	19
20	21	22	23	24	25	26
27	28	29	30			

	用正劃記	天數
星期日		
星期一		
星期二		
星期三		
星期四		
星期五		
星期六		

8. 套圈比賽，△表示套中，×表示沒套中。

妮	×	△	△	△	×	×	△	×	△	△	×	△	×
妮													
君	△	△	×	△	△	△	×	×	△	△	△	△	△
君													
凡	×	△	×	×	△	△	△	×	△	×	×	×	
凡													

(1) 每個小朋友套中幾次？

	用正劃記	次數
妮		( ) 次
君		( ) 次
凡		( ) 次

(2) 套中次數最多的小朋友是誰？

( 妮 ， 君 ， 凡 )

(3) 套中次數最少的小朋友是誰？

( 妮 ， 君 ， 凡 )

(4) 共有 ( ) 個人在套圈。

三、 做做看看： 每題 4 分

1. 畫 10 和 1 算算看。

96-67= ( )

2. 畫 10 和 1 算算看。

84+9= ( )

四、 寫出算式做做看看： 每題 4 分

1. 媽媽昨天買了 16 顆棗子，今天又買了 23 顆，媽媽共買了幾顆棗子？

算式：

( ) 顆

2. 一本普通筆記本 21 元，一本彩色筆記本 88 元，一本彩色筆記本比一本普通筆記本貴多少元？

算式：

貴 ( ) 元