

一、填填看 (每題 1.2 分, 共 96 分)

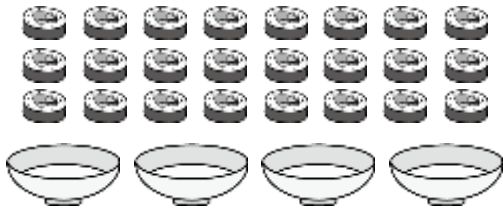
1. 小祥有 60 元, 買了每枝 8 元的鉛筆 7 枝後, 小祥還剩下 ( ) 元。

2. 「五分之三」記作 ( )。

3. 4 公尺和 ( ) 公分一樣長。

4. 民國 109 年是 閏 年, 那年的 2 月有 ( ) 天。

5. 24 個壽司平分裝成 4 盤, 每盤可以分到 ( ) 個壽司。



6. 30 顆糖果平分給 6 個小朋友, 每個人可以分到 ( ) 顆糖果。

7. 茉莉用 1 公尺的尺量公布欄的長度, 剛好量了 6 次, 公布欄的長度是 ( ) 公尺。

8. 書店從 7 月 25 日到 8 月 5 日舉辦特賣會, 特賣會進行了 ( ) 天。

9. 安安的生日是在 8 月, 小禎的生日是下個月, 小禎的生日是在 ( ) 月。

10. 「六分之三」記作 ( )。

11. 每一年中的第三個月有 ( ) 天。

12. 想一想, 填一填。

5 公尺也可以說成是 ( ) 公分。

13. 一個月有 ( ) 天, 2 月是平年, 是 28 天。

14. 將 14 個小朋友平分分成 7 組, 每組有 ( ) 個人。



15. 二年 5 班有 28 個小朋友, 全班每個人都要上台做作品介紹, 每 4 個人一組上台介紹, 總共分成 ( ) 組。

16. 下面是 3 場足球比賽的時間, 哪一場比賽最先開始? 請打  $\checkmark$ 。

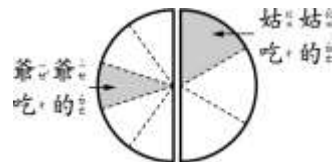
6 月 30 日: 烏拉圭對戰葡萄牙牙

7 月 7 日: 瑞典對戰英格蘭

7 月 2 日: 比利時對戰日本

17. 「二分之三」記作 ( )。

18. 奶奶把 1 個綠豆椪等分切成一半, 爺爺拿其一半後又等分切成 5 塊, 姑姑拿另一半後又等分切成 3 塊, 兩個小朋友各自吃了自己切割後的其一半, ( ) 吃的比較多。



19. 籃球場長 28 公尺, 1 公尺的尺接起來一樣長, 是 ( ) 公尺。

20. 一年共有 ( ) 個月。

21. 一條長繩等分後可以編成3條手鍊，姐姐拿了 $\frac{1}{3}$ 條長繩，可以編成（ ）條手鍊。



22. 小娟在教室的地面上檢到一個捲尺，下面4個人的捲尺長度最短的才是捲尺的主人。

小玉：我的捲尺長105公分。

小梅：我的捲尺比小玉的長。

小山：我的捲尺比小玉的短。

小天：我的捲尺比小山的短。

請問小娟檢到的這捆捲尺是誰的？（ ）

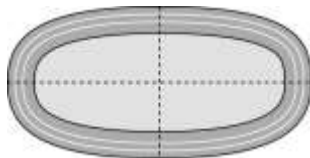
23. 用捲尺量教室的長，一端在0 m、另一端在9 m，教室長（ ）公尺。

24. 玩具展連舉辦2個星期，是（ ）天。

25. 我的叔叔長（ ）公分。

26. 爸爸新買了一臺涼風扇，廠商提供2年保固。2年是（ ）個月。

27. 四百公尺接力賽跑是把1圈操場等分成4個一百公尺，每一個個人跑一百公尺，是跑了（ ）圈操場。用分數填填看。



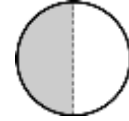
28. 想一想，填一填。

700公分也可以說是（ ）公尺。

29. 拿出年曆數數看、填填看。

從7月（ ）日到7月11日，一共是10天。

30. 媽媽把1塊蔥油餅等分成2份，其中中的1份是（ ）塊蔥油餅。用分數填填看。



31. 4個1公尺接起來是（ ）公尺。

32. 想一想，填一填。

300公分也可以說是（ ）公尺。

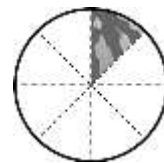
33. 1條緞帶等分成2段，其中中的1段是（ ）條緞帶。用分數填填看。



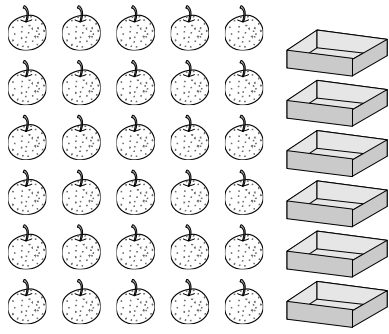
34. 奶奶買了15顆糖果，平分給3個孫子，一次每個人分1顆，一次分掉3顆，分5次可以分完。每個孫子得到（ ）顆糖果。

35. 爸爸的會員卡再過14個月就到期，14個月也可以說是1年（ ）個月。

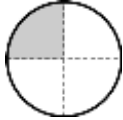
36. 1顆西瓜等分成8塊，妹妹吃了1塊，可以說是吃了（ ）顆西瓜。用分數填填看。



37. 30顆梨子平分成6盒，一盒有（ ）顆梨子。



38. 林老師把 1 顆蘋果等分分成 4 份，綺綺 吃了其中 1 份，是吃了 ( ) 顆蘋果。用分數填填看。



39. 一條繩子長 1 公尺，10 公尺需要 ( ) 條繩子。

40. 冬冬 家的貓咪已經有 1 年 3 個月大，也可以說是 ( ) 個月。

41. 手工餅乾的製造日期是 8 月 7 日，最晚必須在 8 月 16 日這天吃完，也就是可以保存 ( ) 天。

42. 想一想，填一填。

2 公尺也可以說是 ( ) 公分。

43. 一盒巧克力有 40 顆，平分給 5 個人，每個個人分到 ( ) 顆巧克力。




44. 「四分之二」記作 ( )。

45. 一條繩子長 1 公尺，6 條繩子接起來是 ( ) 公尺。

46. 我的第一步長 ( ) 公分。

47. 隔壁的沈姐姐到英國遊學了 1 年 3 個月，也可以說是 ( ) 個月。

48. 把 12 張獎卡平分給 2 個人，1 個人分到 ( ) 張獎卡。




49. 7 公尺是 ( ) 個 1 公尺。

50. 哥哥的健身房會員卡使用期限是 1 年 5 個月，也可以說是 ( ) 個月。

51. 有 18 張圖卡平分給 3 個人，每個個人可以分到 ( ) 張圖卡。



52. 兩條同樣大小的小土司，一條等分成 8 片，另一條等分成 6 片，妮妮 吃了  $\frac{1}{8}$  條土司，丹丹 吃了  $\frac{1}{6}$  條土司，誰吃的土司比較大？ ( )



53. 大姑姑媽在去年 8 月買了一棟預售屋，預計蓋 2 年 4 個月才能交屋。2 年 4 個月是 ( ) 個月。

54. 拿出今年曆數數看、填填看。

從4月5日到4月10日，一共是( )天。

55. 3公尺是( )公分。

56. 拿出今年曆數數看、填填看。

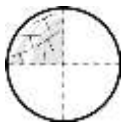
從10月( )日到10月31日，一共是4天。

57. 用捲尺量餐桌的長，一端在0 m、另一端在2 m，餐桌長( )公尺。

58. 亮亮一步大約長50公分，走廊到花園的距離和亮亮的5步一樣長，走廊到花園的距離大約長( )公分。

59. 4公尺是( )公分。


60. 把1顆哈密瓜等分分成4片，1片哈密瓜是( )顆哈密瓜。用分數填填看。



61. 捲尺上量的5 m到6 m和( )公尺一樣長。

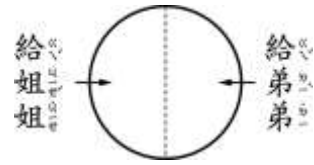
62. 婷婷一叔大約長10公分，冰箱的短邊和9叔一樣長，冰箱的短邊大約長( )公分。

63. 阿姨把1盒乳酪蛋糕等分切成10份，小潔吃了其中1份，是吃了( )盒乳酪蛋糕。用分數填填看。



64. 500公分是( )公尺。

65. 把1塊蛋糕等分切成一半，一半給姐姐，一半給弟弟，弟弟拿到( )塊蛋糕。用分數填填看。



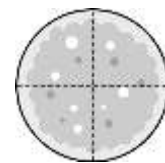
66. 捲尺上量的3 m到4 m和( )公尺一樣長。

67. 閔豪一步大約長50公分，升旗臺的一邊和閔豪的4步一樣長，升旗臺的一邊大約長( )公分。

68. 7公尺是( )公分。

69. 長頸鹿的懷孕時間是1年3個月，也可以說( )個月。

70. 老師買了1個披薩，等分給4位同學，每位同學可以拿到( )個披薩。用分數填填看。



71. 2年5個月，也可以說( )個月。

72. 200公分是( )公尺。

73. 800公分是( )公尺。

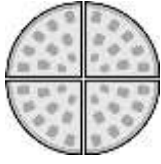
74. 拿出今年曆數數看、填填看。

從5月14日到5月( )日，一共是7天。

75. 1年2個月也可以說( )個月。

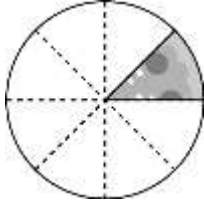
76. 海豚的身長是2公尺4公分，也就( )公分。

77. 媽媽買了1塊鬆餅，等分成4份和小朋友分享，一個人分到1份，每個人都各分到( )塊鬆餅。用分數填填看。



78. 拿出今年的曆數數看、填填看。  
從2月1日到2月( )日，  
一共是5天。

79. 1個披薩可以等分成8塊，其中1塊是( )個披薩。  
用分數填填看。



80. 幸福餐廳內有45把椅子子和5張桌子，每張桌子要擺不一樣多的椅子子，聰明的你，請幫老闆算一算，一張桌子要擺( )把椅子子。

