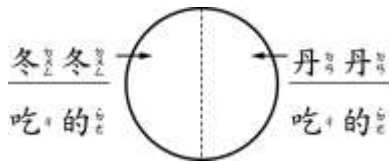


一、對的畫○，錯的打×（是非題）（每題 2.5 分，共 30 分）

1. () 1 個披薩切成 8 塊，等分給 8 個人，每個人可以分到 $\frac{1}{8}$ 個披薩。

2. () 冬冬吃了 $\frac{1}{2}$ 個蛋糕，丹丹吃了 $\frac{1}{2}$ 個蛋糕，冬冬吃的比較多。

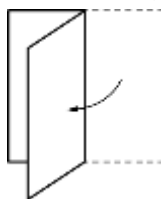


3. () $\frac{1}{4}$ 讀作「四分之一」。

4. () 有 2 等份的蛋糕，每一份疊起來大小會相等。

5. () $\frac{1}{2}$ 個布丁的 2 代表 1 個布丁被等分成 2 份。

6. () 拿一張正方形彩色紙，如下圖對摺，就有 2 等份。



7. () $\frac{1}{4}$ 讀作「四分之一」。


8. () 把 1 個披薩切成 2 塊，2 塊疊起來一樣大，叫作等份。

9. () $\frac{1}{2}$ 顆蘋果的 1 代表 1 顆蘋果等分成 2 份的其中 1 份。

10. () $\frac{1}{2}$ 個披薩是指把 1 個披薩任意切成 2 片，其中的一塊就是 $\frac{1}{2}$ 個披薩。

11. () $\frac{1}{2}$ 讀作「二分之一」。

12. () 媽媽吃了 $\frac{1}{4}$ 條芋頭捲，妮妮吃了 $\frac{1}{6}$ 條生乳捲，所以妮妮吃的比較少。

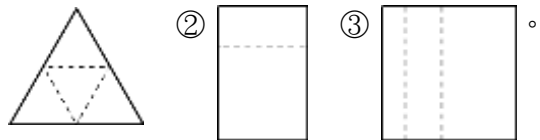


二、選出正確的答案（選擇題）（每題 2.5 分，共 70 分）

1. () 四分之三記作 ① 4、1 ② $\frac{1}{4}$

③ $\frac{4}{1}$ 。

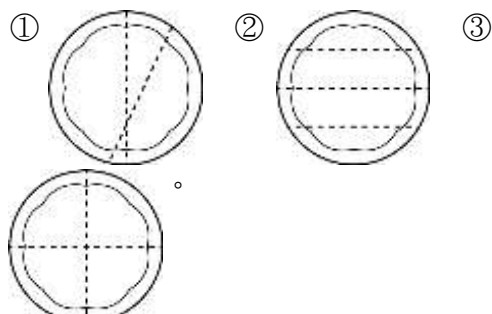
2. () 下面哪一個有 2 等份？ ①



3. () 把 1 張圖畫紙等分成 9 份，小新拿走 1 份，是拿走了幾張圖畫紙？ ① 1 張 ② $\frac{1}{9}$ 張 ③ $\frac{9}{1}$ 張。

4. () 二分之三記作什麼？ ① $\frac{1}{2}$ ② 21 ③ $\frac{2}{1}$ 。

5. () 把 1 個水果派等分成 4 份，下面哪一個方法是正確的？



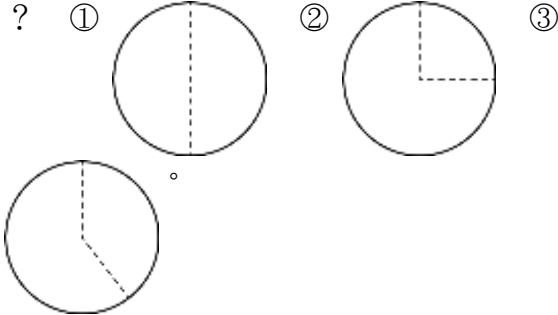
6. () 奶奶把 1 塊月餅等分成 8 份，哥哥吃了 1 份，是吃了幾塊月餅？ ① 1 塊 ② 8 塊 ③ $\frac{1}{8}$ 塊。

7.() 把 1 條緞帶等分分成 2 段，其中的一份是幾條緞帶？



- ① 1 條 ② $\frac{2}{1}$ 條 ③ $\frac{1}{2}$ 條。

8.() 下面哪一個是等分分的圖形？



9.() 把 1 個御飯糰等分分成 3 份，分給 3 位小朋友，每一位小朋友拿到幾個御飯糰？


- ① 1 個 ② $\frac{3}{1}$ 個 ③ $\frac{1}{3}$ 個。

10.() 1 個披薩等分分成 3 片，弟弟吃了其中的一份，是吃了幾個披薩？



- ① $\frac{1}{3}$ 個 ② 1 個 ③ $\frac{3}{1}$ 個。

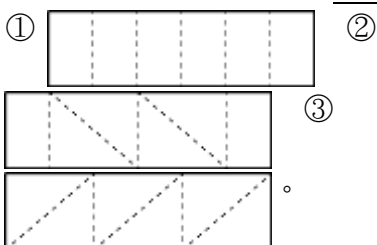
11.() 把 1 塊蛋糕等分分成 4 份，其中的一份是幾塊蛋糕？



- ① $\frac{4}{1}$ 塊 ② $\frac{1}{4}$ 塊 ③ 1 塊。

12.() $\frac{1}{2}$ 讀作什麼？ ① 二一 ② 一分之二 ③ 二分之。

13.() 把 1 個蛋糕等分分成 6 份，下面哪一個方法是不正確的？



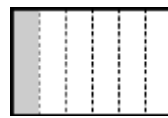
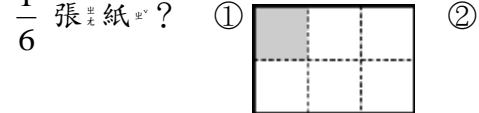
14.() $\frac{1}{9}$ 個蛋塔的 1 是什麼意思？ ① 1 個蛋塔 ② 1 種口味 ③ 等分成 9 份中其中一份。

15.() 下面哪一個敘述能表示 $\frac{1}{2}$ 張色紙？ ① $\frac{1}{2}$ 張色紙 ② $\frac{1}{4}$ 張色紙 ③ 1 張色紙。



16.() 把時鐘上的哪兩個數字連線，會將時鐘等分？ ① 1 和 6 ② 3 和 9 ③ 5 和 8。

17.() 下面哪一個圖形不能表示 $\frac{1}{6}$ 張紙？



18.() 把 1 張紙對摺 1 次後，再對摺 1 次，其中的一份是幾張紙？ ① $\frac{1}{2}$ 張 ② $\frac{1}{4}$ 張 ③ 1 張。

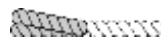
19.() 一條繩子對摺 2 次，可以分成幾段？



一條繩子



對摺 1 次



對摺 2 次

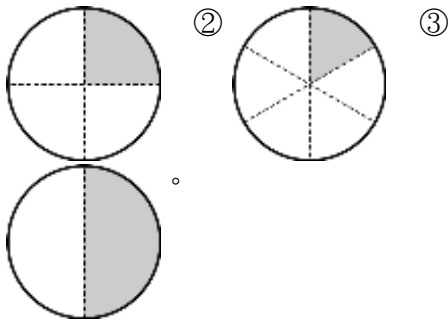
- ① 2 段 ② 4 段 ③ 8 段。

20.() 把 1 顆梨子等分切開，分給彤彤和 7 個家人，1 個人分到幾顆梨子？ ① 1 顆 ② $\frac{1}{7}$ 顆 ③ $\frac{1}{8}$ 顆。

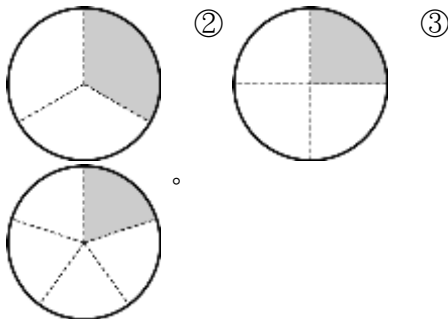
21.() $\frac{1}{4}$ 塊麵包的 $\frac{1}{4}$ 是什麼意思？
 ① 4 塊麵包 ② 把 1 塊麵包等分分成 4 份 ③ 有 4 種不同的麵包。

22.() $\frac{1}{8}$ 塊巧克力的 $\frac{1}{8}$ 是什麼意思？
 ① 8 種口味 ② 1 塊等分成 8 份 ③ 8 盒巧克力。

23.() 下面的圖形中，哪一個的塗色部分是 $\frac{1}{2}$ 個圓？ ①



24.() 下面的圖形中，哪一個的塗色部分是 $\frac{1}{4}$ 個圓？ ①



25.() 爸爸買了 1 個蛋糕，他和媽媽一人吃一半，媽媽吃了幾個蛋糕？




① 1 個 ② $\frac{1}{2}$ 個 ③ 2 個。

26.() $\frac{1}{4}$ 讀作什麼？ ① 一分之四 ② 四分之 ③ 一和四。

27.() $\frac{1}{4}$ 片巧克力的 $\frac{1}{4}$ 是什麼意思？
 ① 1 片巧克力 ② 4 片巧克力中的其中 1 片 ③ 1 片巧克力等分分成 4 份的其中 1 份。

28.() 老師發給每一組一張紙，要小組長等分分成 8 份給每一位組員，組員拿到的是其中 1 份是多少張紙？



① $\frac{1}{8}$ 張 ② $\frac{8}{1}$ 張 ③ 1 張。