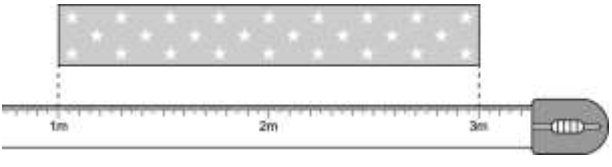


一、是非題

1. ( ) 9 個 1 公尺長的竹竿接起來是 5 公尺。
  2. ( ) 出生嬰兒的身高比 1 公尺長。
  3. ( ) 公尺是長度單位，1 公尺也可以用 1m 表示。
  4. ( ) 教室門的高度比 1 公尺短。
  5. ( ) 6 根 1 公尺長的木棒接起來的長度是 3 公尺。
  6. ( ) 緞帶的長度是 1m 到 3m，和 3 公尺一樣長。
- 
7. ( ) 1 公尺和 100 個 1 公分一樣長。

8. ( ) 1 公尺和 100 公分一樣長，記作 1 公尺 = 100 公分。
9. ( ) 琦琦的身高是 1 公尺 58 公分，也可以記作 158 公分。
10. ( ) 一叔長可能只有 12 公尺長。
11. ( ) 5 公尺 6 公分也可以說是 560 公分。
12. ( ) 2 公尺 45 公分也可以說是 245 公尺。

二、選出正確的答案（選擇題）  
（每題 2.1 分，共 71.4 分）

1. ( ) 下面哪種東西適合用 1 公尺長的尺去量？  
 ① 鉛筆的長度  
 ② 數學課本的厚度  
 ③ 游泳池的長度。
2. ( ) 下面哪一個小朋友的說法是錯誤的

? ① 小玉：我的梳

子比1公尺短

② 小名：冰箱的高度比

10公分短

③ 小菜：我的手鍊比1公尺

短。

3. ( ) 用1公尺長的尺

量黑板長度，剛好

量了5次，黑板的長


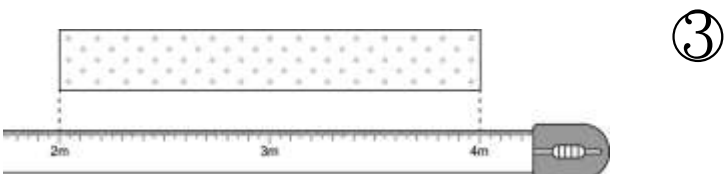
度是幾公尺？ ① 1

公尺 ② 5公尺 ③ 10

公尺。

4. ( ) 下面哪一條緞帶

是1公尺長？ ①



5. ( ) 班級書櫃的長和

3條1公尺的繩子接

起來一樣長，是幾

公尺？ ① 1公尺 ②

2公尺 ③ 3公尺。

6. ( ) 100公分等於幾公

尺？ ① 1公尺 ② 10

公尺 ③ 100公尺。

7. ( ) 1公尺等於幾公

分？ ① 1公分 ② 10

公分 ③ 100公分。

8. ( ) 估估看，數學課

本的長邊大約有幾

吋長？ ① 2吋 ② 10

吋 ③ 20吋。

9. ( ) 下面哪一個物品

的長度可能比1公

尺長？ ① 剪刀 ②

跳繩 ③ 彩色筆。

10. ( ) 下面哪一個物品的高度可能比 1 公尺短？ ① 旗杆 ② 門 ③ 課桌椅。
11. ( ) 高雄 85 大樓 的高度是 378□，□ 要填入 ① 公分 ② 公尺 ③ 分鐘。
12. ( ) 圓柱一圈的長度和 1 公尺一樣長，有一條紅繩剛好可以繞圓柱 5 圈，這條紅繩長 ( ) 公尺。
13. ( ) 8 公尺 8 公分也可以記作幾公分？ ① 808 公分 ② 88 公分 ③ 888 公分。
14. ( ) 700 公分也可以說是幾公尺？ ① 700 公尺 ② 70 公尺 ③ 7 公尺。


15. ( ) 350 公分等於幾公尺幾公分？ ① 3 公尺 5 公分 ② 3 公尺 50 公分 ③ 35 公尺 0 公分。
16. ( ) 下面哪一條繩子最長？ ① 繩長 1 公尺 99 公分 ② 繩長 201 公分 ③ 繩長 2 公尺 9 公分。
17. ( ) 208 公分等於幾公尺幾公分？ ① 20 公尺 8 公分 ② 2 公尺 80 公分 ③ 2 公尺 8 公分。
18. ( ) 用 10 公分的尺量桌子的長，剛好量了 10 次，這張桌子的長度不可能 ① 1 公尺 ② 100 公分 ③ 100 公尺。

19. ( ) 6 公尺 60 公分 是 幾 公分 ? ① 66 公分 ② 606 公分 ③ 660 公分。


20. ( ) 5 公尺 等 於 幾 公分 ? ① 5 公分 ② 50 公分 ③ 500 公分。

21. ( ) 汽車 比 機車 長 , 機車 比 腳踏車 長 。 最 短 的 是 ① 汽車 ② 機車 ③ 腳踏車 。


22. ( ) 王 叔 叔 有 一 個 120 公分 的 梯子 , 公園 的 椰子 樹 比 梯子 高 , 梯子 比 榕 樹 高 , 椰子 樹 和 榕 樹 , 哪 一 棵 樹 比 較 高 ? 下 面 哪 張 圖 是 對 的 ? ①



②



③



23. ( ) 長 頸 鹿 比 大 象 高 , 大 象 比 河 馬 高 , 哪 一 種 動 物 最 高 ? ① 長 頸 鹿 ② 大 象 ③ 河 馬 。

24.( ) 小力、小為和小華

華三個人比身高。

力身高1公尺46公分，

為身高149公分，

華比力矮。

身高最高的是 ①

力 ② 為 ③ 華

。

25.( ) 雯雯的身高是126

公分，玲玲比雯雯

高，雯雯比安安高，

玲玲和安安誰比較

高？ ① 玲玲 ② 安

安 ③ 無法比較。

26.( ) 美美的身高是1

公尺35公分，琦琦

比美美矮，美美比

莉莉矮，琦琦和莉莉

誰比較矮？



① 琦琦 ② 莉莉 ③ 無

法比較。

27.( ) 小汾是一個國小

二年級的學童，他

用一尺長量桌子的

長度，結果量了10

尺，下面哪一個答

案最符合小汾量出

來的長度？ ① 110公

分 ② 13公分 ③ 1公

尺。

28.( ) 敏容的一尺大約

長10公分，水壺的

高度和敏容的2尺

一樣長，水壺的高

度是幾公分？ ① 2

公分 ② 10公分 ③

20公分。

29.( ) 小豐手臂打開伸

直的長度大約是1

公尺，黑板的長度

大約和5個小豐手

臂打開伸直的長度

一樣長，黑板大約

是幾公尺？ ① 500 公

尺 ② 50 公尺 ③ 5 公

尺。

30. ( ) 丹丹的一叔長是

10 公分，櫃子的長

邊和丹丹的 5 叔一

樣長，櫃子的長邊

是幾公分？ ① 10 公

分 ② 50 公分 ③ 100

公分。

31. ( ) 蘇拉颱風造成基

隆港的大浪高達 2

層樓高。一層樓高

大約 3 公尺，大浪大

約有幾公尺高？ ①

5 公尺 ② 6 公尺 ③ 7

公尺。

32. ( ) 2 公尺的繩子和

300 公分的繩子接起

來是幾公分？ ① 302

公分 ② 2300 公分 ③

500 公分。

33. ( ) 立可白比美工刀

短，美工刀比彩色

筆長，立可白和彩

色筆哪一個比較短

？ ① 立可白 ② 彩

色筆 ③ 無法比較。

34. ( ) 下面選項裡，哪

一個長度最接近 1

公尺？ ① 操場的長

度 ② 1 間教室的長

度 ③ 同學手臂打

開伸直的長度。