

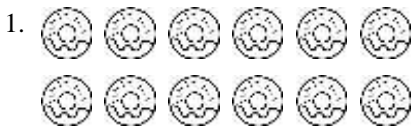


後測卷

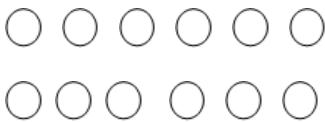
九、分裝與平分

二年 班 號 得分
姓名

一、先圈圖看，再回答問題。
(每題9分，共18分)



請小朋友先畫成這樣，再圈看：




12 個甜甜圈，每 6 個裝成一盒，可以裝成幾盒？

答：() 盒



請小朋友先畫成這樣，再圈看：



15 顆糖果，每個人分 3 顆，可以分給幾個？

答：() 個人

二、18 枝鉛筆平分給 6 個人，一次每人分 1 枝。分一分，填填看。(每格 4 分，共 32 分)



- 分第 1 次，每人分到 () 枝，還剩 () 枝。
- 分第 2 次，每人分到 () 枝，還剩 () 枝。
- 分第 3 次，每人分到 () 枝，還剩 () 枝。

4. 分 () 次剛好分完，每人分到 () 枝鉛筆。

三、把做法用算式記下來，並算出答案。(每題 10 分，共 50 分)

1. 媽媽煮了 30 顆湯圓，每 5 顆裝成 1 碗，可以裝成幾碗？

2. 有 12 個人要參加兩項三腳比賽，每 2 個人組成 1 隊，可以組成幾隊？

已註解 [t1]:

3. 一條緞帶長 45 公分，製作一個蝴蝶結需要 9 公分，可以做幾個蝴蝶結？

4. 易一儒有 24 張貼紙，平分給 8 個朋友，每個朋友可以分到幾張？

5. 剛烤好的餅乾有 35 片，平分放在 7 個袋子裡，每個袋子裡裝了幾片餅乾？