



後測卷

二年__班__號


得分


姓名_____


六、公尺與公分

一、生活中的物品有多長？

圈圈看。(每題6分，共24分)

1.  電風扇的高大約是 70 (公尺, 公分)

2.  床的長大約是 2 (公尺, 公分)

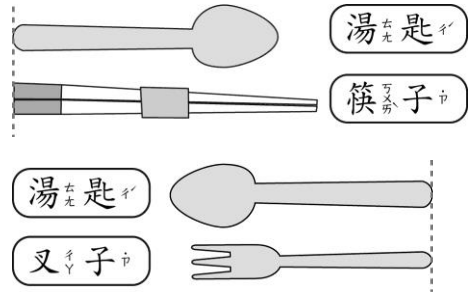
3.  黑板的長大約是 5 (公尺, 公分)

4.  大樹的高大約是 25 (公尺, 公分)

二、填填看。(每格5分，共50分)

- 800 公分 = () 公尺
- 3 公尺 = () 公分
- 5 公尺 17 公分 = () 公分
- 9 公尺 9 公分 = () 公分
- 704 公分 = () 公尺 () 公分
- 226 公分 = () 公尺 () 公分
- 580 公分 = () 公尺 () 公分

三、比一比，圈圈看。(6分)



筷子和叉子，哪一種餐具比較長？

(筷子 , 叉子) 比較長

四、想一想，圈圈看。

(每題6分，共12分)

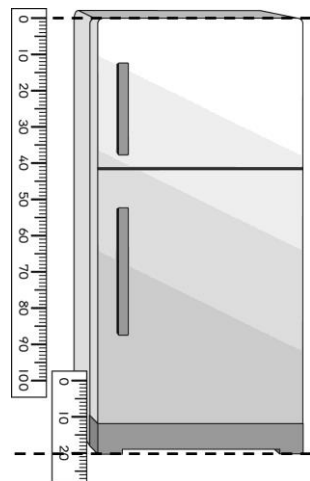
1. 姐姐比哥哥矮，哥哥比爸爸矮。

(姐姐 , 爸爸) 比較高

2. 黑板比跳繩長，桌子比跳繩短。

(桌子 , 黑板) 比較短

五、看圖填填看。(每格4分，共8分)



冰箱的高度是

() 公尺

() 公分。