



# 後測卷

二年\_\_班\_\_號


得分


姓名\_\_\_\_\_


## 六、公尺與公分

### 一、生活中的物品有多長？

圈圈看。(每題6分，共24分)

1.  電風扇的高大約是 70  
(公尺, **公分**)

2.  床的長大約是 2  
(**公尺**, 公分)

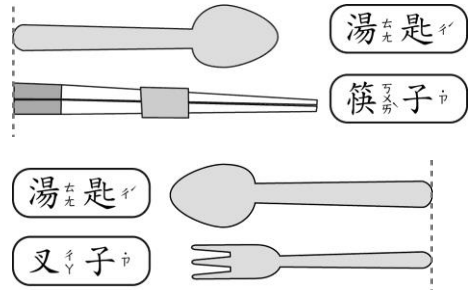
3.  黑板的長大約是 5  
(**公尺**, 公分)

4.  大樹的高大約是 25  
(**公尺**, 公分)

### 二、填填看。(每格5分，共50分)

- 800 公分 = ( 8 ) 公尺
- 3 公尺 = ( 300 ) 公分
- 5 公尺 17 公分 = ( 517 ) 公分
- 9 公尺 9 公分 = ( 909 ) 公分
- 704 公分  
= ( 7 ) 公尺 ( 4 ) 公分
- 226 公分  
= ( 2 ) 公尺 ( 26 ) 公分
- 580 公分  
= ( 5 ) 公尺 ( 80 ) 公分

### 三、比一比，圈圈看。(6分)



筷子和叉子，哪一種餐具比較長？

( **筷子** , 叉子 ) 比較長

### 四、想一想，圈圈看。

(每題6分，共12分)

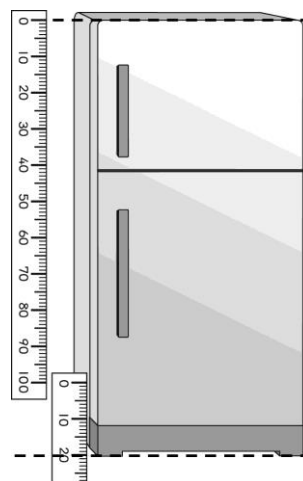
1. 姐姐比哥哥矮，哥哥比爸爸矮。

( 姐姐 , **爸爸** ) 比較高

2. 黑板比跳繩長，桌子比跳繩短。

( **桌子** , 黑板 ) 比較短

### 五、看圖填填看。(每格4分，共8分)



冰箱的高度是

( 1 ) 公尺

( 20 ) 公分。