

**輕鬆一下  
來玩4X4賓果吧！**

**( 在Jamboard排16格便利貼 )**

# 遊戲規則

- 畫好16格，隨意填上1-16的數字。

4	13	8	3
7	10	2	11
15	1	5	14
6	9	12	16

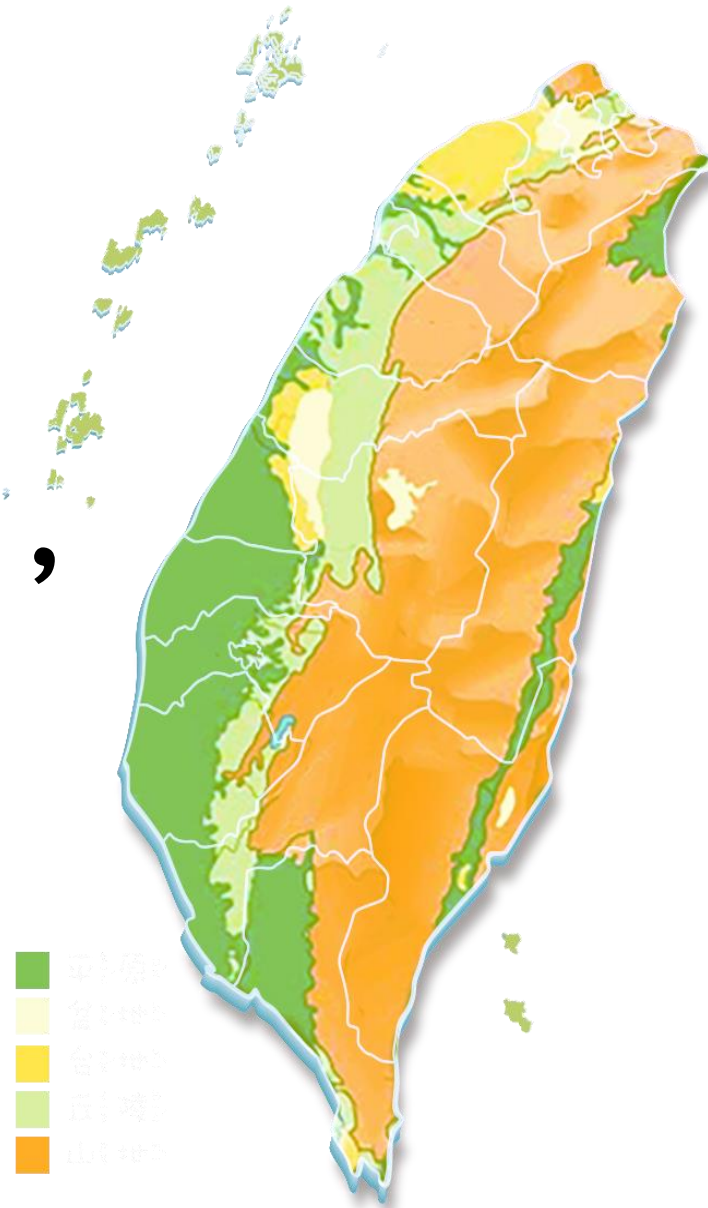
為什麼臺灣發生地震時，常造成重大的損失？（主要的原因及附屬原因各一）

臺灣將地震分為幾級？哪一級可能造成門窗扭曲變形？

由這張圖分析  
「地震規模」和  
「地震震度」除  
了定義不同外，  
還有何差別？

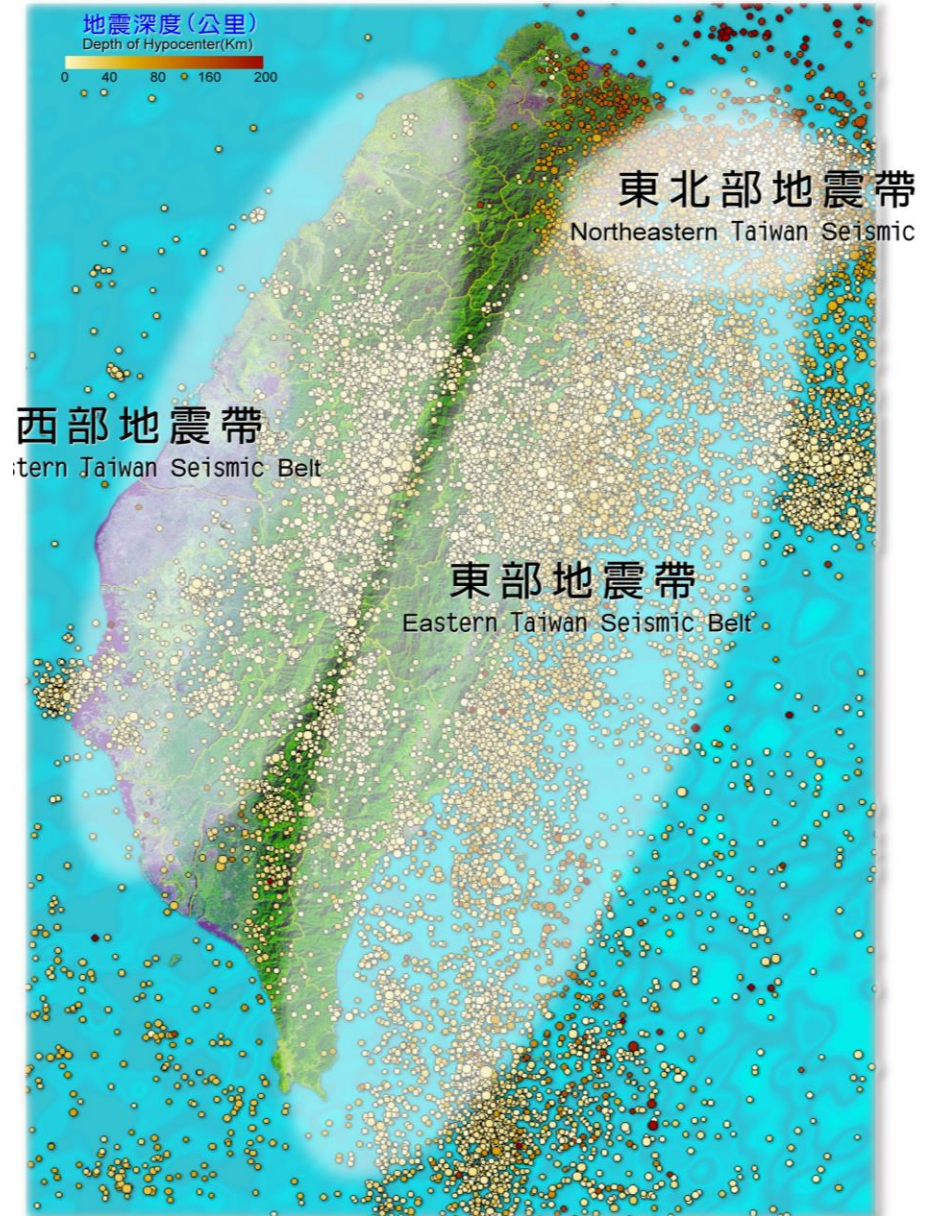


地震與板塊運動有關，全球90%的地震發生在環太平洋地震帶上，臺灣哪三個縣市最常發生地震？



## 臺灣地震帶分布圖

Seismic Belts in



地震保命三步驟是哪三個？

請寫出答案並示範動作

除了加強防災觀念保護自身安全外，  
你如何與自然和諧共處遠離災害？

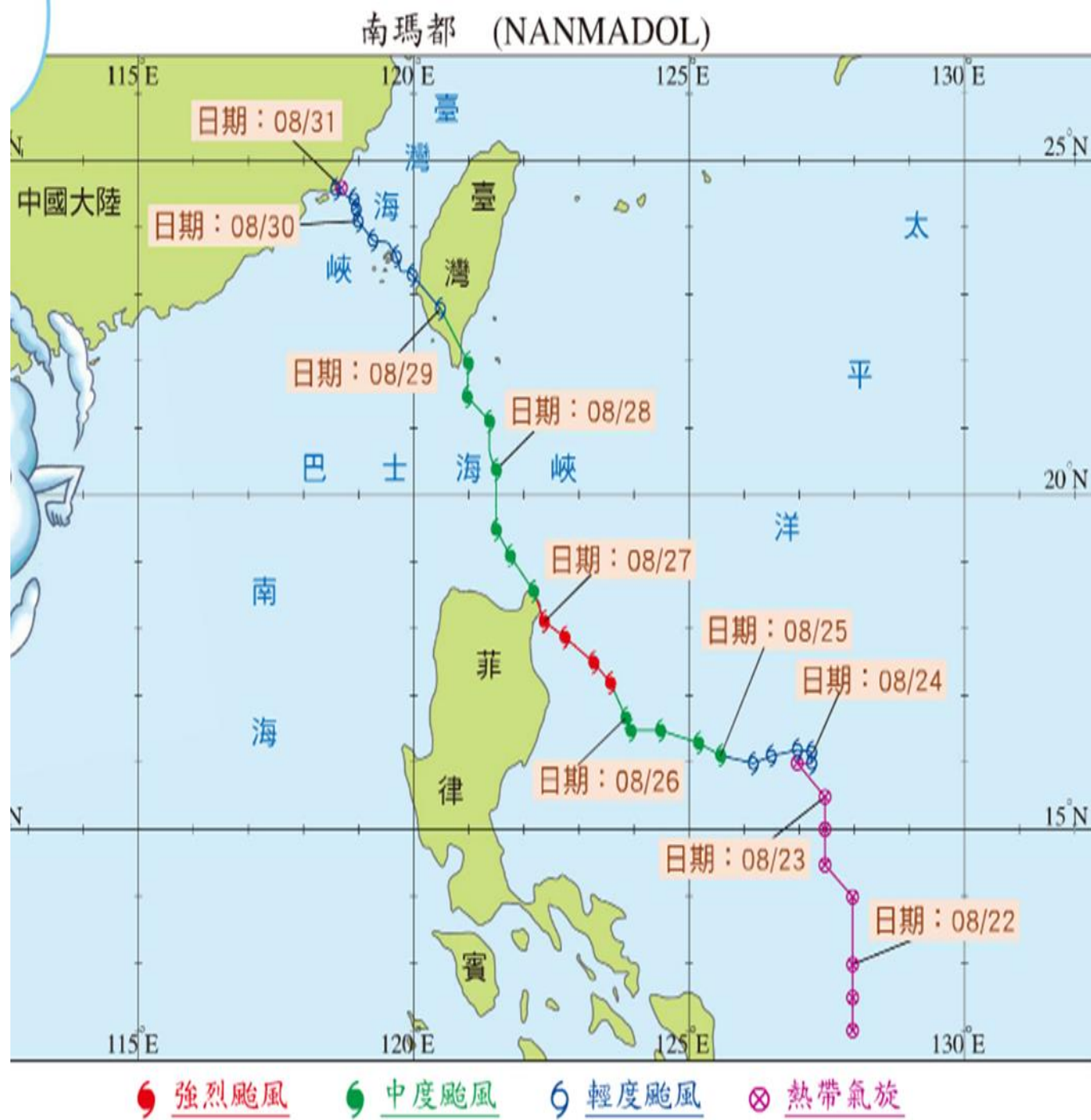
緊急避難包中，你覺得哪三樣  
物品最重要？請說明理由

颶風生成的條件是哪二項？

提示：位置的標示、水域系統)

# 颱風一開始是什麼形成的？

## 南瑪都颱風8/27開始由強颱變中颱再變輕颱，原因為何？





除了颱風以外，臺灣還有哪二個  
時節及因素容易發生豪雨？

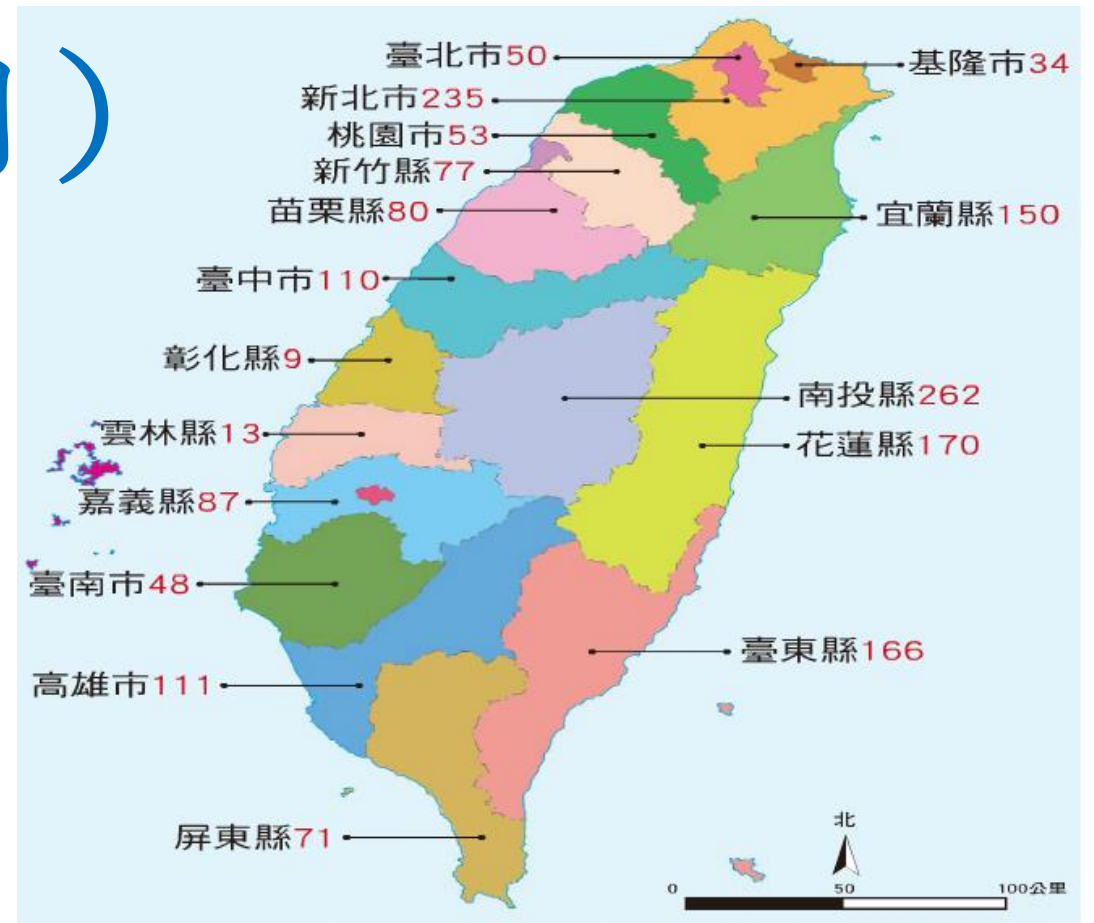
自然災害無法避免，但是人類的什麼行為使得災害造成的損失更嚴重？

地震、颱風、豪雨、土石流和海嘯，請寫出誰和誰之間可能的因果關係？

例如：（            ）可能帶來（            ）

# 為何新北市及南投縣常發生土石流?

(請寫出二個原因)



1 臺灣各縣市歷年來容易發生土石流的溪流統計條數。

臺灣經常有地震及颱風是因為哪一個因素居多？

A人口眾多

B缺乏防災觀念

C地理位置

緊急避難包的必需品，有什麼注意事項？（請寫二項）