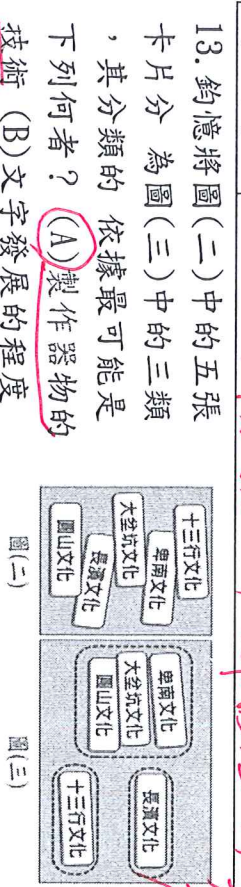


四、請將下列有關史前時代生活特色的圖片代號分別填入表格上正確的時代中。

A	B	C	D
E	F	G	H
I	J	K	L
M	N	O	P

時代名稱	舊石器	新石器	金屬器
共同特色	B.G.N.	A.C.I.P.	J
代表文化	長濱	圓山	卑南
各別特色		E	F.K.O.P.H.L.M
進步項目	從史前到現代找出人類文化進步的脈絡		
用火方式 (3分)	用火烤食物 → 用火煮食物 → 用火煉 → 用火電 (或照明取暖) (或燒製陶器) 鐵		
居住型態 (3分)	穴居 → 簡易茅屋 → 干欄式房屋 → 高樓大廈		



14. 考古學者在臺灣東部發現距今約三萬年前的史前人類生活遺跡，推估當時的人們已經懂得打製粗糙的石器，但還沒有磨製石器的技巧，也不懂如何蓋房子，而是住在天然的洞穴裡。這些史前人類最可能以下列何種方式維持生活？ (A)牧養牛羊 (B)採集漁獵 (C)種植稻米 (D)圈養家畜

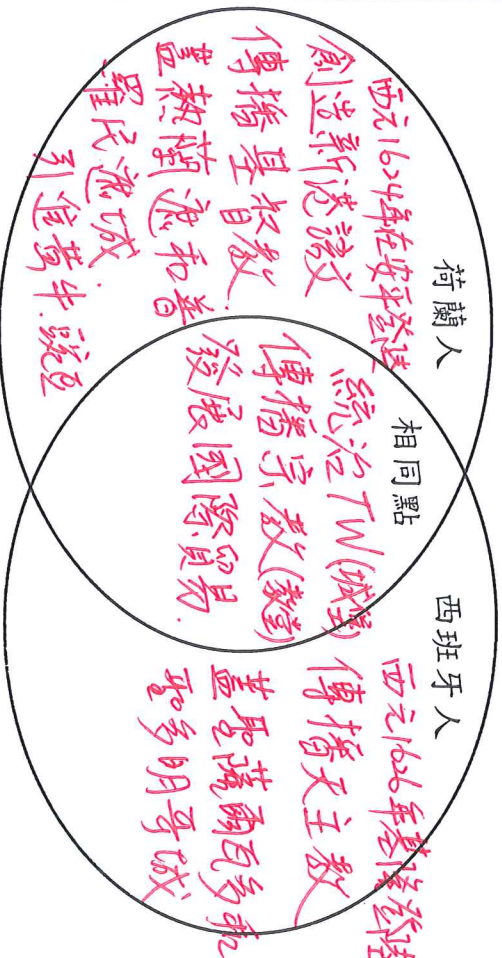
五、請你根據以下畫線部分的敘述，將代號填入社會規範所屬的 () 中：(每答3分共12分)

① 每年的12月31日，各地都會舉辦跨年活動。
 為了看煙火，到處人擠人，
 ② 機車汽車子任意並排停車，許多人隨意
 ③ 在路旁亂丟垃圾，看了不禁

令人搖頭。更令人感嘆的是，為了更近點看，在舞臺上的明星表演，一群①年輕人爭先恐後往前插隊，無視身旁有一對行動不便的祖孫，撞了人就跑了。
 演唱會廣場的另一邊，②有群眾正以「在愛中建立自己」為題，舉辦跨年禱告會，開啟2022年，迎接恩典新年。希望人人都能③以感恩的心，善待家人朋友，讓世界更美好。

甲、風俗習慣：(1) 乙、倫理道德：(4) (6) (8)
 丙、宗教信仰：(5) 丁、法律：(2) (3) (7)

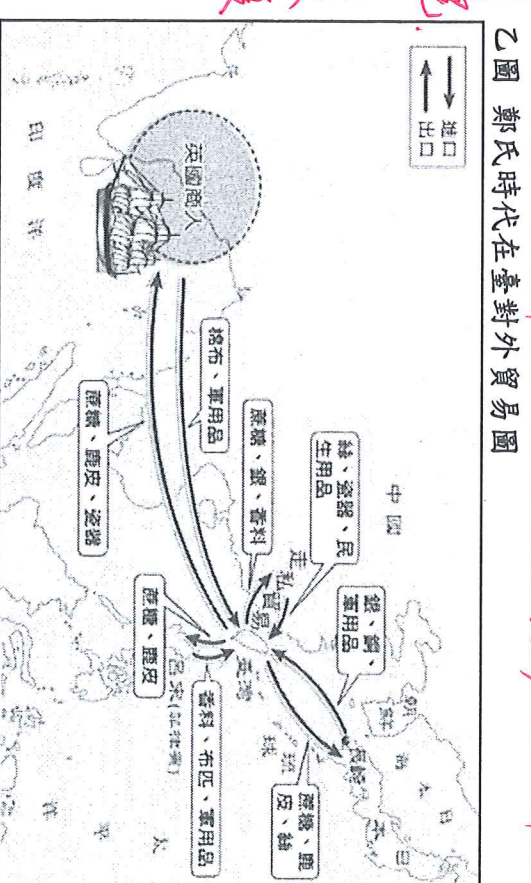
六、請利用維恩圖比較分析荷蘭人與西班牙人來臺的時間、地點、目的及在臺措施有何異同？(相同點2分，不同點1分，共10分)



七、從乙圖中發現鄭氏時代大量進口哪二種貨物到臺灣？為什麼？(把答案圈起來) (每答2分共6分)

A 蔗糖	B (布)	C 鹿皮	D (軍用品)
E 瓷器	F 香料	G 稻米	H 銀

原因：(圈)因鄭氏王朝以TW為反清復明基地，(圈)必須提供軍隊生活用品，武器，才能訓練兵。



八、請分析荷西時代與鄭氏時代對臺灣的經營有哪些相同或不同的想法及做法？(每答2分共12分)

不同點	荷蘭人	鄭氏王朝
尋找據點的動機	和中國做生意	反清復明
文化教育	為原住民創新港語，為漢人設學校培養人才。	
相同點	荷蘭人	鄭氏王朝
國際貿易	外銷蔗糖鹿皮，與中國日本貿易	
土地開墾	招募漢人來臺開墾種植，發展農業	