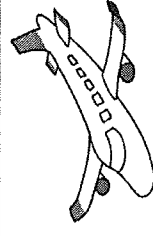
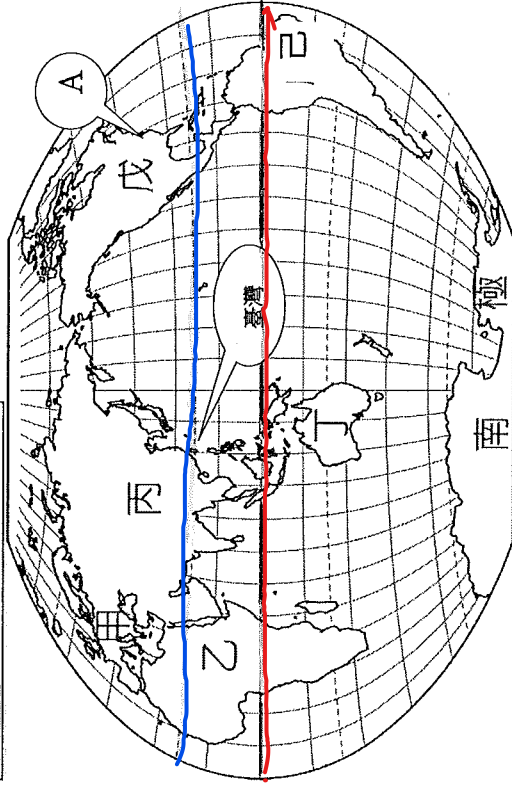


小綺在桃園市出生長大，她有一個阿姨，常年定居在美國。阿姨全家 12 月份的耶誕假期要回臺灣度假，小綺收集了地理位置和自然環境相關資料，想跟從小在美國長大的表哥 Ben 介紹臺灣，請你協助小綺完成資料收集。



臺灣在世界的哪裡？ (2分/格, 共 16 分)



▲世界地圖

1. 表哥 Ben 住在美國 A 地，屬於 (美) 洲 (填洲名)；臺灣位於 (兩) (填代號) 在 (亞) 洲 (填洲名) 的 (東) (填方位) 邊。表哥搭乘直飛航班，從美國直飛臺灣，會越過三大洋中最大的 (太平洋) (填海洋名)。
2. 如果只根據經緯度判斷，不考慮地勢高低，表哥住的地方年平均氣溫比較 (低)。
3. 請幫小綺在地圖上標示出赤道 (用紅筆) 和北回歸線 (用藍筆) 的位置。(2分/個)

臺灣的地形 (20分)

1. 小綺將臺灣五大地形整理成筆記表格，還想用圖示法向 Ben 說明每種地形的特色，請幫小綺填入正確的地形名稱，並幫小綺設計能表現地形特色的圖示。(地形名稱 2 分、圖示 1 分)

| 地形名稱 | 特色 | 圖示 |
|------|------------------------|-----|
| 平原 | 地勢低平，利於耕作，高度 100 公尺以下。 | — |
| 山地 | 起伏較大，高度在 1000 公尺以上 | 锯齿状 |
| 盆地 | 四周較高、中間低平，像盆狀。 | U 形 |
| 丘陵 | 起伏較小，100 至 1000 公尺間 | 波浪状 |
| 台地 | 頂部平坦，邊緣陡坡，100~1000 公尺間 | 階梯状 |

2. 小綺想帶常年住在美國內陸的 Ben 去看臺灣美麗的海岸地形，她找了幾個景點，請幫小綺配對出正確的海岸地形。(填代號)

A 珊瑚礁海岸 B 斷層海岸 C 沙岸 D 岩岸

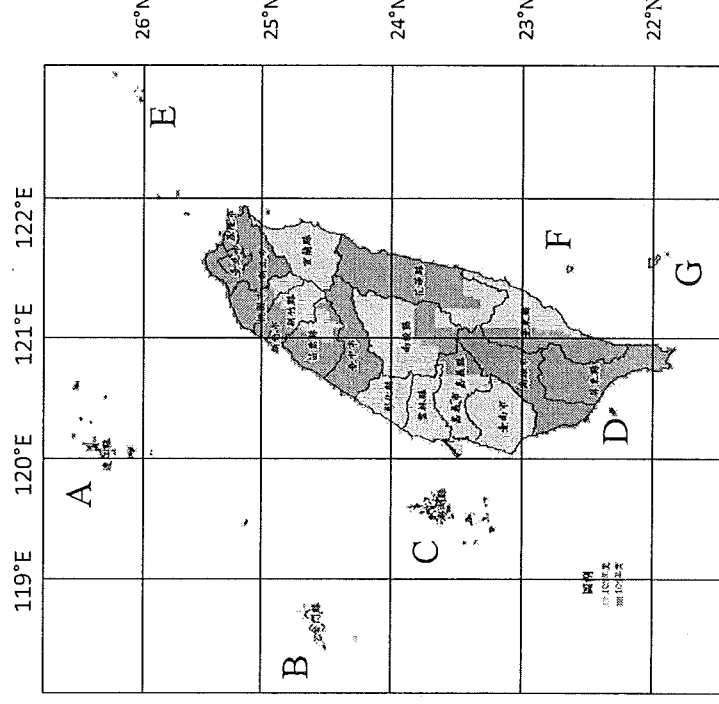
景點 1：桃園竹圍海水浴場…… (C)

景點 2：新北野柳海洋地質公園…… (D)

景點 3：屏東墾丁貓鼻頭…… (A)

景點 4：花蓮清水斷崖…… (B)

散落在海洋上的珍珠——臺灣的離島 (16分)



1. 小綺用經緯度來描述臺灣本島的位置：(1分/格)

經度：(東) 經 (120) 度到 (122) 度之間

緯度：(北) 緯 (22) 度到 (25) 度之間

2. A 和 B 過去是維護臺海安全的戰地，有全世界最密集的地下坑道，後來開放觀光，成為具有歷史文化特色的著名景點，A 是 (金門島)、B 是 (馬祖列島)。

3. 小綺暑假時曾和家人到 C 潛水，她潛水的海域名稱為 (澎湖群島)。

4. 小綺看到一個小島旅遊

行程 (如右)，小綺想帶

表哥一日遊，這個小島

可能是哪裡？【琉球群島】

或【小琉球】(填離島名稱)

超值一日遊，行程包含來回船票、獨享小吃、景點門票
搭乘半潛水艇，欣賞獨特又美麗的珊瑚礁

5. F、G 有「太平洋上最美的 2 顆珍珠」之稱，

F 是 (綠島)，有著名的朝日溫泉；G 是